






47. Установите соответствие между пиктограммой и видом спорта:

1.		1. плавание
2.		2. гребля академическая
3.		3. гребля на байдарках и каноэ
4.		4. велоспорт
5.		5. гандбол
		6. водное поло
		7. бадминтон
		8. гимнастика спортивная
		9. регби
		10. баскетбол

48. Установите соответствие между летними и зимними олимпийскими видами спорта:

1. Летние олимпийские виды спорта	1. скелетон
2. Зимние олимпийские виды спорта	2. триатлон
	3. гребля академическая
	4. фехтование
	5. биатлон
	6. фристайл
	7. таэквондо
	8. сноуборд

49. Установите соответствие фотографий олимпийских чемпионов, выступавших в составе команд СССР, СНГ и Республики Беларусь, с его фамилией и именем

- в) единство спортсменов пяти континентов земного шара;
г) основные двигательные навыки.

7. Правила баскетбола при ничейном счете в основное время предусматривают дополнительный период продолжительностью:

- а) 3 мин.;
б) 5 мин.;
в) 8 мин.;
г) 10 мин.

8. Назовите первого Олимпийского чемпиона из Беларуси:

- а) Вячеслав Олейник;
б) Игорь Матвиенко;
в) Сергей Макаренко;
г) Валерий Гончаров.

9. Кольцо какого цвета на Олимпийском флаге символизирует Европу?

- а) красное;
б) голубое;
в) зеленое;
г) желтое.

10. Волейбол как спортивная игра появился в конце XIX века в...

- а) США;
б) Канаде;
в) Японии;
г) Германии.

11. Одним из видов античных Олимпийских Игр являлся панкратион. Что он из себя представлял?

- а) метание коня и диска;
б) вид единоборств;
в) стрельба из лука;
г) заезд на колесницах.

12. Что понимается под закалыванием?

- а) купание в холодной воде и хождение босиком;
б) приспособление организма к воздействию внешней среды;
в) сочетание воздушных и солнечных ванн с гимнастикой и подвижными играми.